



Colegios
"El Valle"

Actividades de verano 2019

Nombre y apellidos: _____

Curso: _____ Grupo: _____

1° Ed. Primaria
Matemáticas

RECOMENDACIONES

- Para que no se te olvide lo que has aprendido este curso y te prepares para 2º. Tu profe te recomienda que durante las vacaciones trabajes un poquito .

Recuerda que debes hacerlo poco a poco y lo mejor que puedas.

Acuérdate también de:

- Si escribes con buena letra, todo el mundo te entenderá.
- Si coloreas los dibujos, tus trabajos quedan mucho más bonitos y mejor presentados.
- Si algún ejercicio no lo entiendes, debes pedir ayuda a tus padres y si te has equivocado, que te digan dónde para que no perdure el error.

FELICES VACACIONES

1. Calcula:

$$\begin{array}{r} 231 \\ + 245 \\ \hline \end{array}$$

$$\begin{array}{r} 220 \\ + 149 \\ \hline \end{array}$$

2. Escribe cómo se leen:

79

37

95

67

3. Completa.

$10 + \square =$

$15 + \square =$

$5 + \square =$

$25 - \square =$

$17 - \square =$

$13 + \square =$

$20 - \square =$

$30 - \square =$

15

20

4. PROBLEMA.

Si en una barquita caben 5 niños, en tres barquitas
cabrán _____

$$\square + \square + \square = \square$$

5 . Ordena de menor a mayor.

59 28 98 89 70 47
_____ < _____ < _____ < _____ < _____ < _____

6. Escribe los números que se indican.

Mayor que 85.
Menor que 91.
Tiene nueve decenas.

Soy el _____

Menor que 79.
Mayor que 71.
Tiene 2 unidades.

Soy el _____

7. Escribe los números formados por:

nueve decenas y cinco unidades

siete decenas

nueve decenas y tres unidades

nueve decenas

8. PROBLEMA.

En el kiosko hay 52 helados. Si se venden 15, ¿Cuántos helados quedan?


DATOS

OPERACIÓN

Quedan helados.



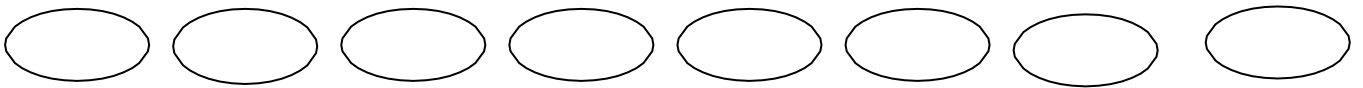
9. Une los puntos y colorea.



10. Escribe los números pares que hay entre el 50 y el 100.


11. Ordena de mayor a menor.

46 – 98 – 67 – 50 – 38 – 12 – 20 – 9



12. Dibuja estos números en ábacos y después escribe cómo se leen.

68



90



13. Completa.

$10 + \square = 18$

$\square + 5 = 25$

$20 + \square = 35$

$\square + 2 = 44$

$27 - \square = 22$

$29 - \square = 26$

14. PROBLEMA.

Pili, Sonia y Óscar van a pasar la tarde jugando a las chapas.



Pili tiene 12 chapas, Sonia 9 y Óscar 4. ¿ Cuántas chapas tienen en total?

$$\square \bigcirc \square \bigcirc \square = \square$$

Entre los tres tienen chapas.

Al final de la tarde se les han perdido 4 chapas. ¿Cuántas les quedan?

$$\square \bigcirc \square = \square$$

15. Coloca y calcula.

$54 + 15$

$50 + 21 + 6$

$49 - 7$

16. Calcula y completa.

$$10 + 8 = \begin{array}{|c|c|} \hline \text{D} & \text{U} \\ \hline \square & \square \\ \hline \end{array}$$

$$50 + 7 = \begin{array}{|c|c|} \hline \text{D} & \text{U} \\ \hline \square & \square \\ \hline \end{array}$$

$$30 + 3 = \begin{array}{|c|c|} \hline \text{D} & \text{U} \\ \hline \square & \square \\ \hline \end{array}$$

$$20 + 6 = \begin{array}{|c|c|} \hline \text{D} & \text{U} \\ \hline \square & \square \\ \hline \end{array}$$

17. Escribe hasta el 80 y rodea los pares.

60 – 61 - _____

18. Escribe el número anterior y el posterior.

___ ← 77 → ___ □□ □ ← 98 → ___

___ ← 59 → ___ □□ □ ← 85 → ___

19. Completa.

$$20 + \square = 38$$

$$\square + 5 = 55$$

$$15 + \square = 20$$

$$\square + 5 = 25$$

$$56 - \square = 26$$

$$35 - \square = 25$$

20. Escribe cómo se leen.

88 _____
71 _____
21 _____
31 _____

21. PROBLEMA.

Es el cumpleaños de la abuela, y Ana y Lucía quieren regalarle algo. Suma los ahorros de Ana.



$$\square + \square + \square + \square + \square = \square$$

Suma los ahorros de Lucía.



$$\square + \square + \square + \square + \square = \square$$

¿Cuánto dinero tienen en total?

OPERACIÓN

En total tienen _____

Le compran a la abuela este regalo. ¿Cuánto dinero les queda?



22. Calcula.

$7 + 3 + 5 =$

$4 + 6 + 8 =$

$6 + 3 + 7 =$

$5 + 3 + 5 =$

23. Continúa hasta el 70.

88 – 86 – _____

24. Lee y completa.

Noventa y cinco $\boxed{95}$ \rightarrow $\boxed{90}$ + $\boxed{5}$ \rightarrow $\boxed{9}$ **D** y $\boxed{5}$ **U**

Setenta y tres $\boxed{}$ \rightarrow $\boxed{}$ + $\boxed{}$ \rightarrow $\boxed{}$ **D** y $\boxed{}$ **U**

Ochenta y dos $\boxed{}$ \rightarrow $\boxed{}$ + $\boxed{}$ \rightarrow $\boxed{}$ **D** y $\boxed{}$ **U**

25. Escribe los números formados por:

siete decenas y dos unidades $\boxed{}$


nueve decenas $\boxed{}$

nueve decenas y una unidad $\boxed{}$

tres decenas $\boxed{}$

26. ¿Cómo se llama la figura que tiene cuatro lados? $\boxed{}$

Dibújala.



27. Rodea el número mayor y ordénalos de menor a mayor.

53 45 23 62 44 26 57 73 40

28. Escribe el anterior y el posterior.

Anterior		Posterior
	25	
	56	
	63	
	69	
	52	
	1	
	30	

29. Calcula.

$85 + 10 = \square$

$50 + 10 = \square$

$55 + 10 = \square$

$89 + 10 = \square$

$7 + 10 = \square$

30. Dibuja dos líneas poligonales abiertas en azul y dos cerradas en verde.




31. PROBLEMA.

En un rebaño hay ochenta y siete ovejas blancas, y el resto son negras. Si el rebaño está compuesto por 154 ovejas, ¿cuántas negras hay?

DATOS

Ovejas blancas: _____

Ovejas rebaño: _____



OPERACIÓN

SOLUCIÓN : En el rebaño hay _____ ovejas negras.

32. Colorea según el código.

A large illustration of a beach scene with a girl, an umbrella, a sun, a sandcastle, and a bucket. The scene is divided into sections with numbers 1 through 9. Below the illustration is a color key where each number is paired with a colored circle. The numbers are: 1 (blue), 2 (dark blue), 3 (red), 4 (yellow), 5 (orange), 6 (green), 7 (black), 8 (grey), 9 (brown).

1	2	3	4	5	6	7	8	9
---	---	---	---	---	---	---	---	---

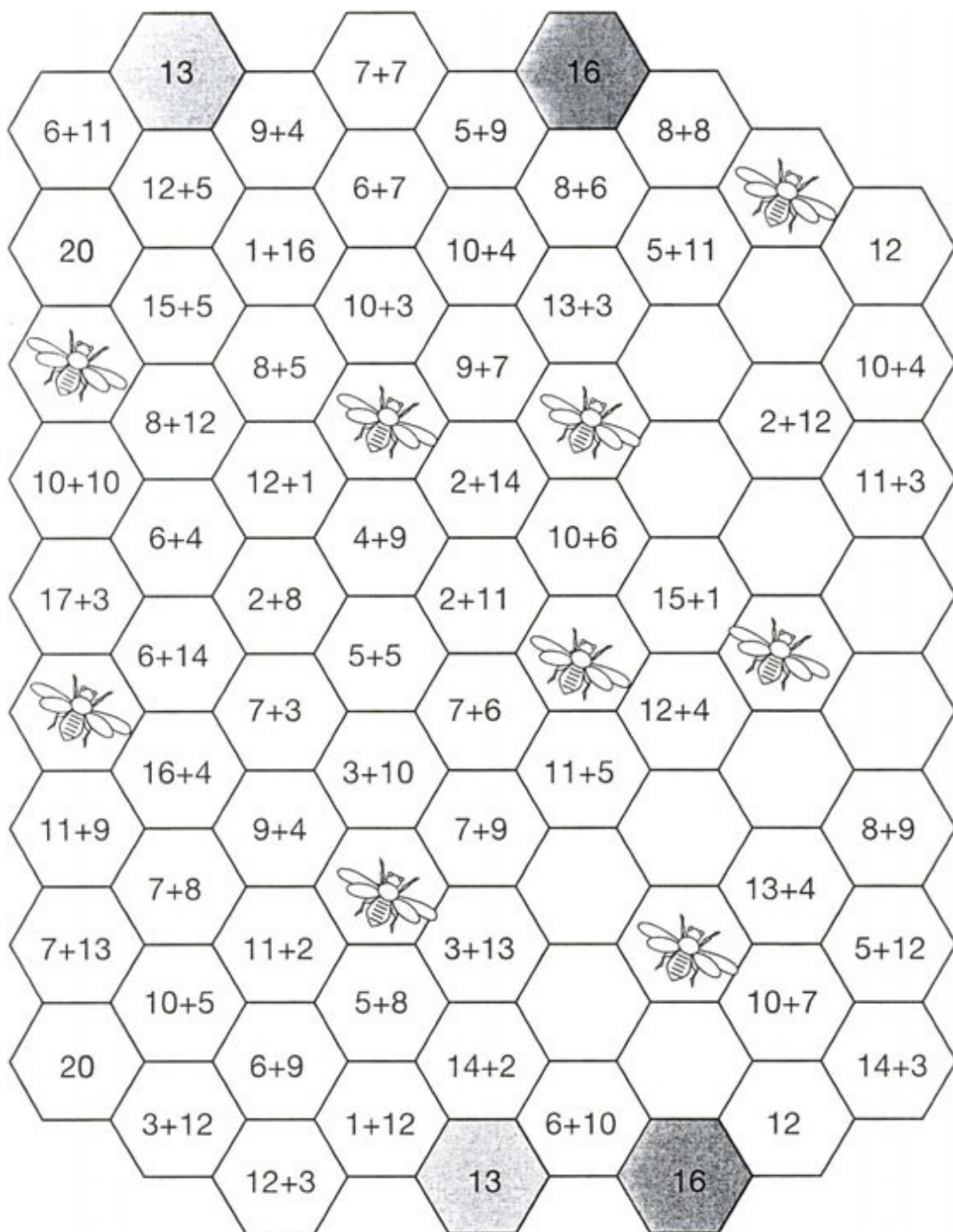
33. Este es un juego en el que hay que encontrar las baldosas cuyas sumas den el mismo resultado.

A) Pinta con color amarillo el camino de baldosas que va desde el 13 hasta el 13, pasando por todas las baldosas cuya suma dé 13.

B) Pinta con color rojo el camino del 16, pasando por todas las sumas que den 16.

C) pinta con el verde el camino del 20, pasando por todas las sumas que den 20.

D) El camino del 12 está vacío. Completa las baldosas con sumas que den 12.



34. PROBLEMA.

Un camello pesa 685 kilos. Un hombre pesa 74 kilos. ¿Cuántos kilos pesará el camello con el hombre encima?

DATOS

OPERACIÓN



SOLUCIÓN: El camello con el hombre encima pesan _____

35. Colorea los números que tienen nueve decenas y ordénalos de mayor a menor.

94	19	9	90	91	89	91
<input type="checkbox"/>	<input type="checkbox"/>	<input type="checkbox"/>	<input type="checkbox"/>	<input type="checkbox"/>	<input type="checkbox"/>	<input type="checkbox"/>

36. Piensa y completa.

Tengo 7 decenas y 2 unidades

Tengo 9 decenas exactas

Soy el anterior al 60

Me falta una unidad para el 75

37. Une un número de cada columna de manera que sumen diez.

3	2	5
4	1	4
5	3	3

38. Completa la serie.

1º	2º								
----	----	--	--	--	--	--	--	--	--

39. Escribe con letras.

7º	_____
19	_____
95	_____
5º	_____

40. Completa la tabla.

+	5	6	7	8	9	10	20
8							
9							
10							

41. PROBLEMA.

En una granja hay 274
¿cuántos animales hay?



y 158



DATOS

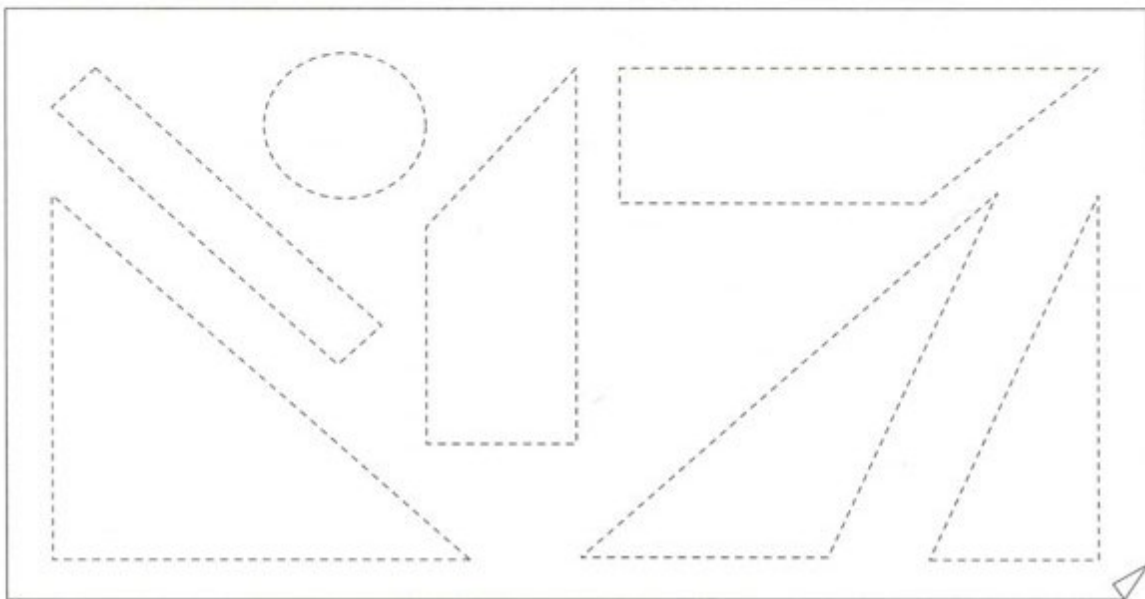
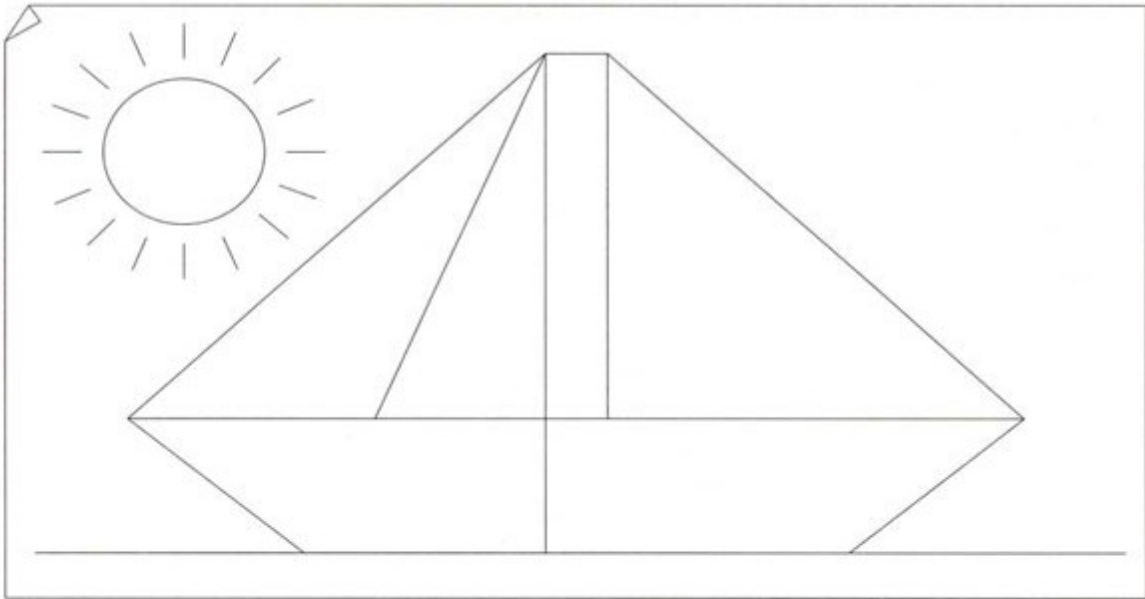
OPERACIÓN

Gallinas:

Patos:

RESPUESTA: Hay _____ animales en total

42. Colorea las figuras, recórtalas y pégalas en su sitio.



43. Calcula:


$$\begin{array}{r} 245 \\ + 356 \\ \hline 179 \end{array}$$

$$\begin{array}{r} 572 \\ - 258 \\ \hline \end{array}$$

$$\begin{array}{r} 517 \\ + 624 \\ \hline 284 \end{array}$$

$$\begin{array}{r} 432 \\ - 272 \\ \hline \end{array}$$

44. Continúa la serie.



45. PROBLEMA.

Lee este problema, inventa una pregunta y resuelve.

Daniela compró un  por 70 céntimos. Si pagó con 95 céntimos.

¿ _____ ?

DATOS

OPERACIÓN

RESPUESTA: _____

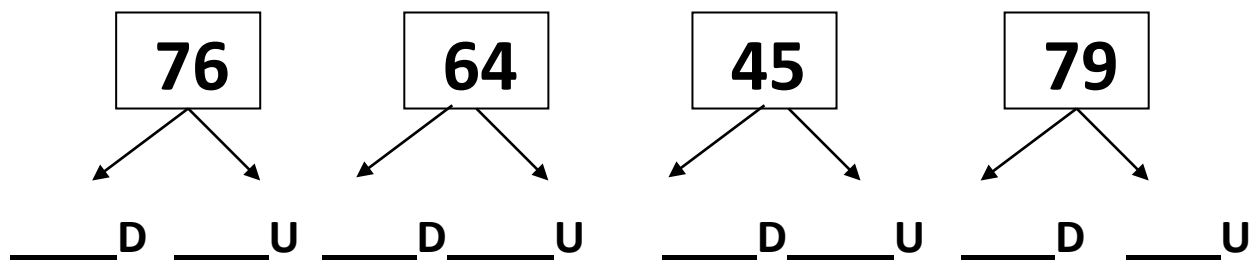
46. Cuenta de 4 en 4 hasta el 102:

50 - 54 - _____

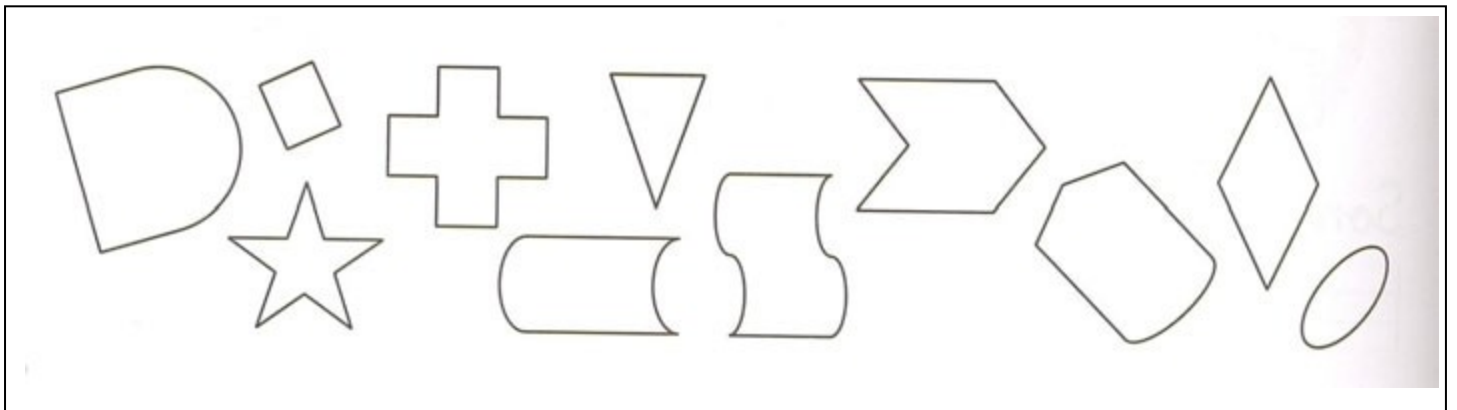
48. Rodea tres números cuya suma sea el número de la izquierda.

53	20	3	10	25	30
68	60	28	34	20	20
75	38	30	25	56	20
89	50	30	47	9	20

49. Escribe las unidades y las decenas.



50. Colorea los polígonos.



51. Escribe las cifras que faltan.

$$\begin{array}{r} 2 \square \\ + 3 \ 5 \\ \hline 5 \ 6 \end{array} \quad \begin{array}{r} \square \ 8 \\ + 4 \ 7 \\ \hline 7 \ 5 \end{array} \quad \begin{array}{r} 2 \ 7 \\ + 5 \square \\ \hline 7 \ 9 \end{array} \quad \begin{array}{r} 4 \ 9 \\ + \square \ 5 \\ \hline 9 \ 4 \end{array}$$

52. PROBLEMA.

Jacobo ha recogido 58 conchas en la playa y Pedro solo 26. ¿Cuántas le faltan a Pedro para tener las mismas que Jacobo?

DATOS

_____	<input type="text"/>
_____	<input type="text"/>

OPERACIÓN

SOLUCIÓN: _____

53. Cuenta de 4 en 4 hasta el 64.

0 – 4- _____

54. Calcula:

$$\begin{array}{r} 465 \\ +241 \\ \hline \end{array} \quad \begin{array}{r} 946 \\ -427 \\ \hline \end{array} \quad \begin{array}{r} 583 \\ +618 \\ \hline \end{array} \quad \begin{array}{r} 812 \\ -674 \\ \hline \end{array}$$